


1 Welche Rechengeschichte passt? Kreuze an.



a) $48 \text{ kg} : 2 = \underline{\hspace{2cm}} \text{ kg}$

b) $3000 \text{ m} - 300 \text{ m} = \underline{\hspace{2cm}} \text{ m}$

c) $4700 \text{ €} + 300 \text{ €} = \underline{\hspace{2cm}} \text{ €}$

Marie und Luisa wiegen zusammen 48 kg. Luisa hat 2 kg zugenommen.

Familie Schnell ist auf einer Wanderung. Nach 3000 m will sie eine Pause machen. Jan hat 300 Bäume gezählt.

Ein Auto soll 4700 € kosten. Der Händler gibt es Familie Voss 300 € billiger.

Die Bäckerei verbrauchte in der letzten Woche 48 kg Zucker. In dieser Woche ist es doppelt so viel.

Jana läuft 3000 m in 300 Minuten. Tom schafft nur die Hälfte.

Familie Wolf hat ein Auto für 4700 € gekauft. Für die Reifen muss sie noch 300 € bezahlen.

Frau Sommer wiegt 48 kg. Ihr Sohn wiegt halb so viel.

Fabian fährt zum Schwimmbad. Es liegt 3000 m entfernt. 300 m hat er schon geschafft.

Das Auto ist 4700 km gefahren. In der letzten Woche waren es 300 km.

2 Kreuze die passende Rechengeschichte an.

a) $9 \cdot 20 = \underline{\hspace{2cm}}$

b) $180 : 6 = \underline{\hspace{2cm}}$

c) $3 \cdot 20 + 5 = \underline{\hspace{2cm}}$

In jeder Bücherkiste liegen 20 Bücher. Insgesamt sind es neun Kisten.

180 Kinder fahren in den Zoo. Sechs Kinder dürfen nicht mitfahren.

Die Klasse 4b geht mit drei Lehrerinnen und fünf Müttern ins Theater.

In der Klasse 3a sind 20 Kinder. Sie erhält neun E-Mails von der Partnerklasse.

Die Südschule fährt mit 180 Kindern in die Jugendherberge. Immer sechs Kinder schlafen in einem Zimmer.


20 Klassen gehen ins Theater. In jeder Klasse sind fünf Kinder.

Jessica hat 20 € gespart. Sie bekommt pro Monat 9 € Taschengeld.

Die Schule bestellt 180 Mathematikbücher. Es kommen noch sechs Förderhefte dazu.

Es gehen drei Klassen mit insgesamt fünf Begleitern ins Theater. In jeder Klasse sind 20 Kinder.

1



Bäckerei RÜTH

Kann ich beantworten.

Kann ich nicht beantworten.

- a) Wie viel kosten hier drei Brötchen?
- b) Wie viele Brötchen wurden gestern verkauft?
- c) Wie viel kosten vier Brötchen?
- d) Wie viele Brötchen erhalte ich für 1,20 €?
- e) Wie viel kosten zwei Brote?
- f) Wie viel kosten zehn Brötchen?
- g) Wie viel kostet bei RÜTH ein belegtes Brötchen?

Ergebnis

90 ct

2

Bestellung

Nächste Woche
von Montag bis
Freitag bitte täglich
6 Brötchen und am
Samstag 10 Brötchen.

Familie Uhl

- a) Wie viele Brötchen erhält Familie Uhl nächste Woche Mittwoch?
- b) Wie viele Brötchen erhält die Familie nächste Woche insgesamt?
- c) Wie schwer sind 10 Brötchen?
- d) Wie viele Brötchen erhält Familie Uhl diese Woche?

3

Bäckerei SCHÄFER

Brezel
50 ct

Hörnchen
60 ct


Brötchen
ct

- a) Wie viel kosten in dieser Bäckerei zwei Hörnchen und eine Brezel?
- b) Wie viele Hörnchen hat die Bäckerei heute gebacken?
- c) Wie viel kosten hier sieben Brezeln und 20 Brötchen zusammen?
- d) Wie viele Hörnchen erhalte ich für 3 €?
- e) Wie viele Brezeln erhalte ich für 2 €?
- f) Was kannst du hier für 1,10 € kaufen?




Frau Meier kauft im Ausverkauf eine neue Waschmaschine. Die Waschmaschine kostet 798 €. Heute ist die Maschine um 56 € billiger. Wie viel muss Frau Meier bezahlen?

Rechnung:



Herr Kicker geht einkaufen. Er hat 276 € in seiner Geldbörse. An der Kasse bezahlt er 123 €. Wie viel Geld bleibt ihm übrig?


Rechnung:



Der Schulweg von Max beträgt 674 m. Er hat an diesem Morgen schon 421 m zurückgelegt. Wie viele m muss er noch gehen?

Rechnung:






Herr Müller kauft neue Gartenmöbel. Der Tisch kostet 334 €, vier Stühle kosten zusammen 252 €. Wie viel muss Herr Müller bezahlen?

Rechnung:



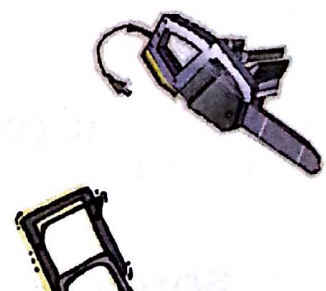
Frau Schmidt braucht ein neues Bügeleisen und einen neuen Mixer. Das Bügeleisen kostet 121 € und der Mixer 78 €. Wie viel bezahlt Frau Schmidt an der Kasse?

Rechnung:




Der Gärtner kauft einen neuen Rasenmäher und eine neue Motorsäge. Der Rasenmäher kostet 426 € und die Säge 342 €. Wie viel kosten die Geräte insgesamt?

Rechnung:



Sachrechnen



RECHNEN

Mama geht einkaufen. Sie kauft: 3 Flaschen Limonade zu je 89 ct, 2 kg Mehl zu je 78 ct, 1 Stück Käse für 1 € 24 ct und 4 kg Äpfel (1 kg kostet 92 ct). Wie viel muss sie bezahlen?



Rechnung:

Ein leerer Lkw wiegt 2348 kg. Er wird mit folgenden Waren beladen: 362 Kisten Äpfel zu je 9 kg und 72 Säcke Kartoffeln zu je 7 kg. Wie viel wiegt der Lkw, wenn er beladen ist?

Rechnung:

