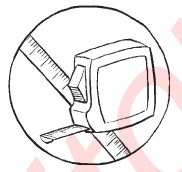


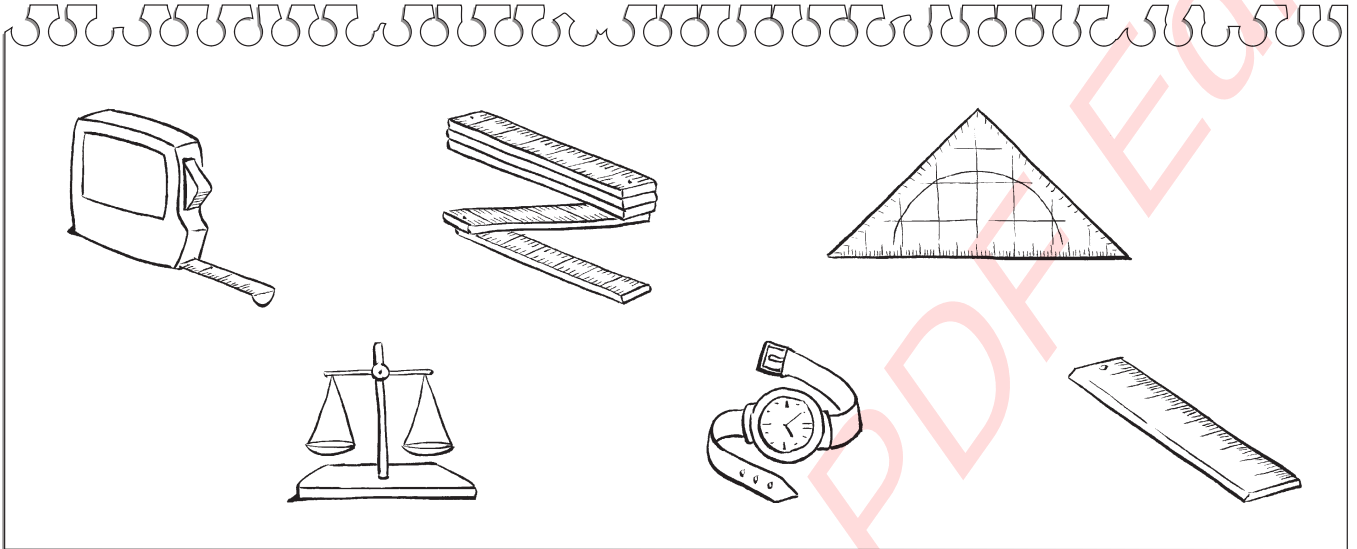
# Sachaufgaben des Alltags\_Längen



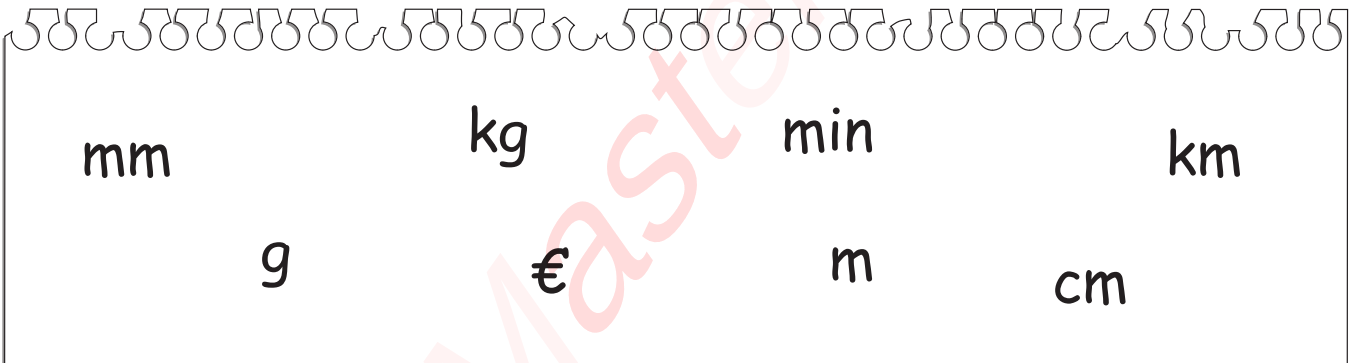
Name:

Datum:

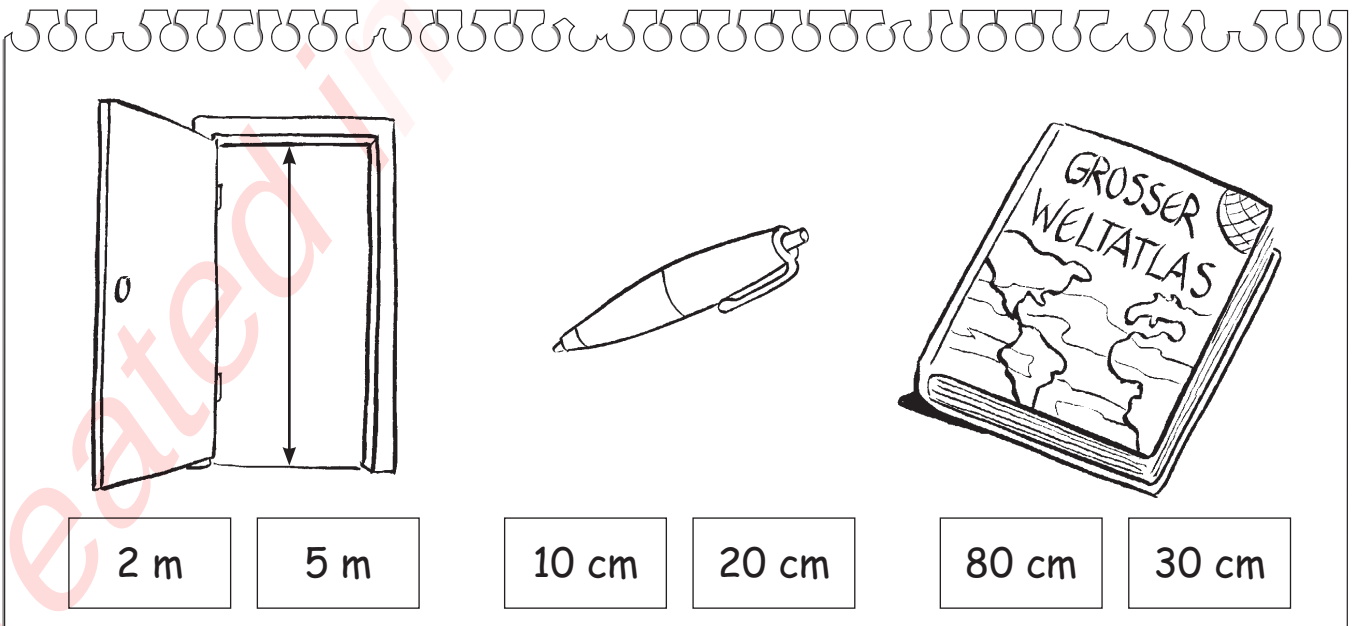
Womit kann man Längen messen? Klicke an!



Welche Maßeinheiten für Längen kennst du? Klicke an!



Welche Länge stimmt? Klicke an!



## Textaufgaben\_02

**Rechne auf einem extra Blatt und füge dann die Lösung in die Textfelder!**

Emma beobachtet ein Vogelhaus mit fünfzehn Vögeln vor ihrem Kinderzimmerfenster. Sieben Vögel fliegen weg und neun kommen dazu. Wie viele Vögel kann sie nun beobachten?

Ben sammelt Fußballsticker. Er hat schon 120 Sticker. Nun kauft er 7 neue Packungen. In jeder Packung befinden sich 5 Fußballbilder. Wie viele Sticker hat er jetzt?



Für das Schulfest muss die 5. Jahrgangsstufe 327 Luftballons aufblasen. 129 wurden bereits aufgeblasen. Davon sind 14 leider weggeflogen. Wie viele fehlen noch?



Die Schulbuchbücherei hat 57 Mathebücher für die 5. Jahrgangsstufe. Die Klasse 5a hat 19 Schüler, die Klasse 5b 22 Schüler und die Klasse 5c 23 Schüler. Wie viele Bücher müssen nachbestellt werden, damit jeder Schüler eines bekommt?

Die Klasse 6a fährt von Montag bis Mittwoch ins Schullandheim nach Passau. Für die Übernachtung mit Vollpension fallen pro Übernachtung für alle Schüler zusammen 594 € an. Der Eintritt ins Schwimmbad beträgt für alle Schüler zusammen 66 €, die 3-Flüsse-Schiffahrt kostet pro Kind 5 €. Der Eintritt ins Römermuseum Kastell Boiotro kostet insgesamt 44 €. Wie viel muss jeder der 22 Schüler für das Schullandheim bezahlen?