

# A1      Uhrzeiten\_03: Rechnen mit Uhrzeiten

1.

Jetzt ist es 14:00 Uhr.

Wie spät ist es...

in 15 Minuten: \_\_\_\_\_ Uhr

in 30 Minuten: \_\_\_\_\_ Uhr

in 1 Stunde: \_\_\_\_\_ Uhr

in 3 Stunden: \_\_\_\_\_ Uhr

in 1,5 Stunden: \_\_\_\_\_ Uhr

in 55 Minuten: \_\_\_\_\_ Uhr

Jetzt ist es 9:00 Uhr.

Wie spät war es...

vor 10 Minuten: \_\_\_\_\_ Uhr

vor 20 Minuten: \_\_\_\_\_ Uhr

vor 3 Stunden: \_\_\_\_\_ Uhr

vor 5 Stunden: \_\_\_\_\_ Uhr

vor 2,5 Stunden: \_\_\_\_\_ Uhr

vor 25 Minuten: \_\_\_\_\_ Uhr

Jetzt ist es 17:15 Uhr.

Wie spät ist es...

in 25 Minuten: \_\_\_\_\_ Uhr

in 40 Minuten: \_\_\_\_\_ Uhr

in 1 Stunde: \_\_\_\_\_ Uhr

in 4 Stunden: \_\_\_\_\_ Uhr

in 3,5 Stunden: \_\_\_\_\_ Uhr

in 70 Minuten: \_\_\_\_\_ Uhr

Jetzt ist es 12:30 Uhr.

Wie spät war es...

vor 15 Minuten: \_\_\_\_\_ Uhr

vor 40 Minuten: \_\_\_\_\_ Uhr

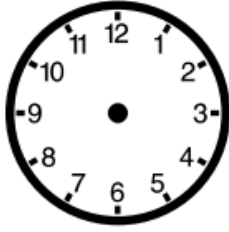
vor 1,5 Stunden: \_\_\_\_\_ Uhr

vor 3 Stunden: \_\_\_\_\_ Uhr

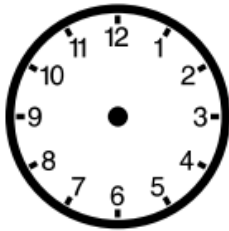
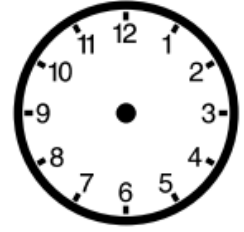
vor 6,5 Stunden: \_\_\_\_\_ Uhr

vor 80 Minuten: \_\_\_\_\_ Uhr

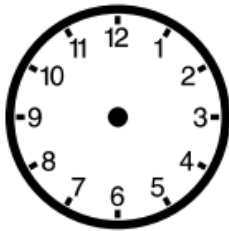
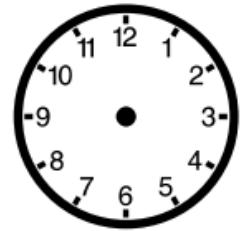
## 2. Lies den Text und zeichne Anfangs- und Enduhrzeiten ein!



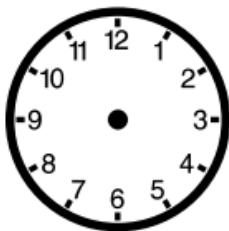
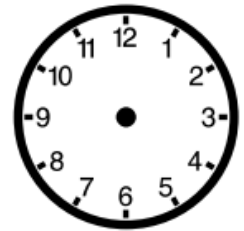
Steffi macht sich um 7:10 Uhr auf den Weg zur Schule. Sie fährt mit dem Bus zur Schule und kommt um 7:40 Uhr an.



Martin trifft sich um 15:15 Uhr mit Sven im Zoo. Dort gucken sie sich die Tiere an und gehen um 17:20 Uhr wieder nach Hause.



Ulf bringt sein Auto um 8:30 Uhr in die Werkstatt. Er kann es schon nach zwei Stunden und zehn Minuten wieder abholen.



Franzi fliegt mit dem Flugzeug in den Urlaub. Sie fliegt um 22:35 Uhr los und kommt elf Stunden und fünf Minuten später an.

