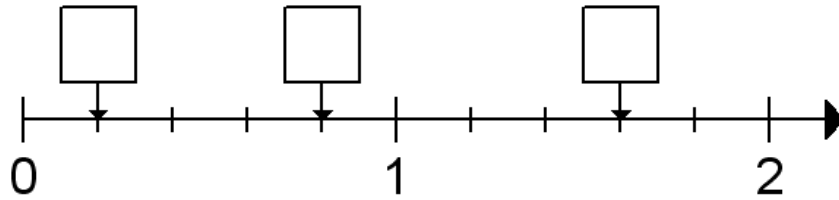
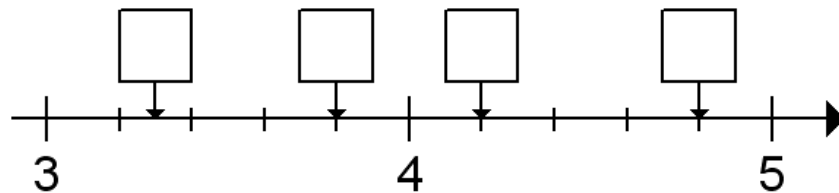


Brüche auf dem Zahlenstrahl

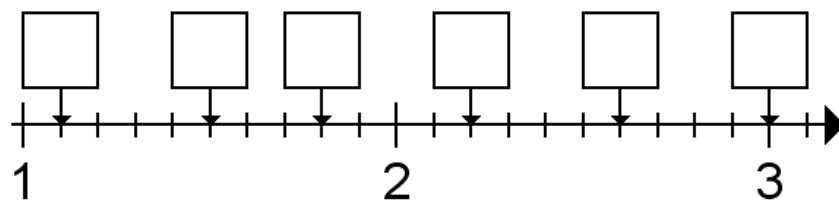
1. Welche Brüche sind auf dem Zahlenstrahl durch die Pfeile gekennzeichnet?
Schreibe die Brüche in die Kästen.



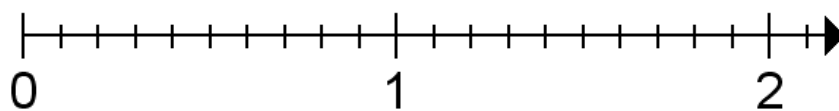
2. Welche Brüche sind auf dem Zahlenstrahl durch die Pfeile gekennzeichnet?
Schreibe die Brüche in die Kästen.



3. Welche Brüche sind auf dem Zahlenstrahl durch die Pfeile gekennzeichnet?
Schreibe die Brüche in die Kästen.



4. Kennzeichne die Brüche $\frac{3}{5}$ und $\frac{17}{10}$ auf dem Zahlenstrahl.



5. Kennzeichne die Brüche $2\frac{1}{2}$ und $3\frac{1}{5}$ auf dem Zahlenstrahl.

